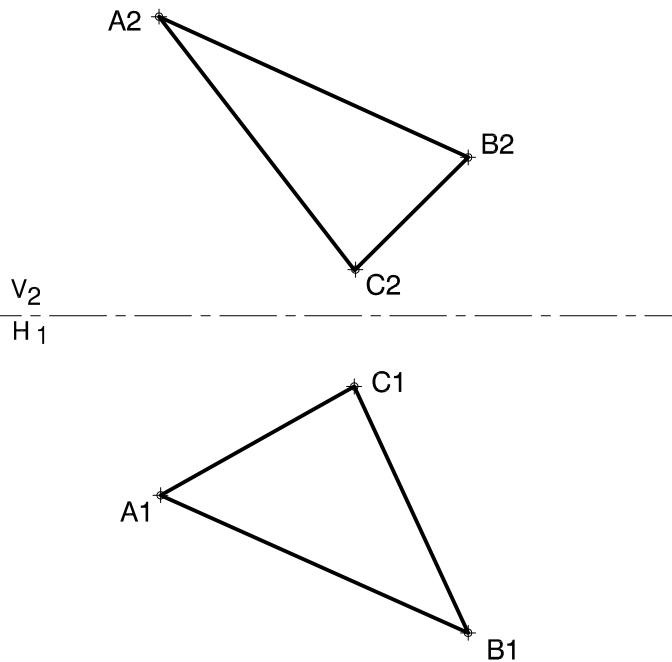
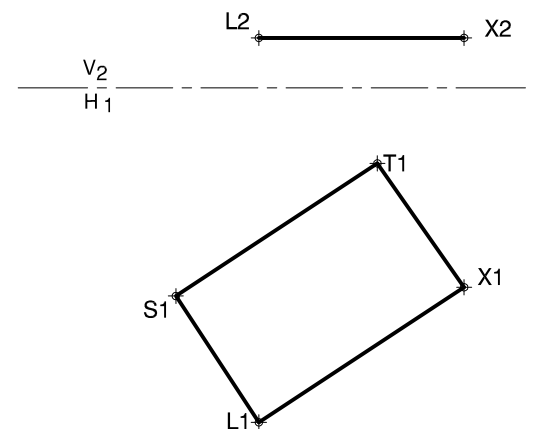
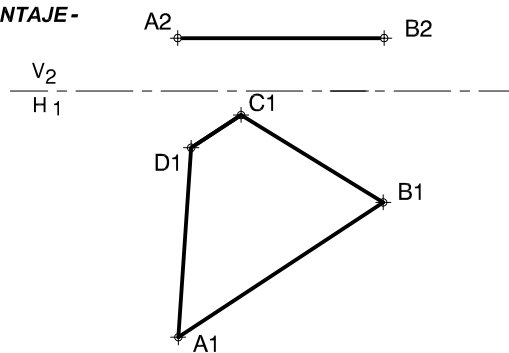


① Hallar pendiente con el plano Horizontal de proyecciones y V.F. del plano "ABC".



② Hallar la proyección vertical del plano ABCD, sabiendo que su pendiente es $Eh=45^\circ$. - Hallar VF. (METODO COMBINADO - EXPRESAR PENDIENTE EN PORCENTAJE -



③ Hallar la proyección vertical del plano LSTX, sabiendo que es de forma cuadrada.-

NOMBRE:

Cº

IN:

TER:

Vº