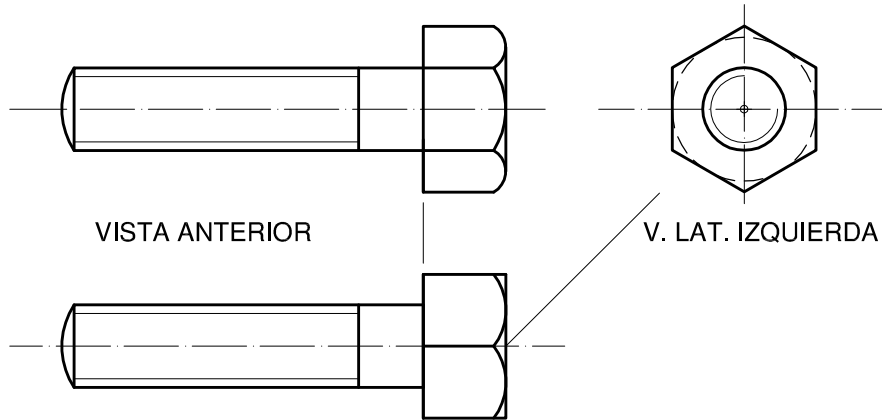
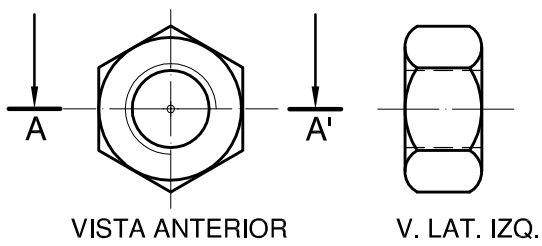


TEMA: REPRESENTACIÓN DE TORNILLO Y TUERCA

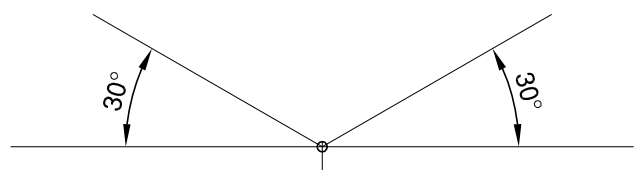
Realizar: 1) Perspectiva ISOMÉTRICA DESPIECE, escala 2:1.- 2) Acotar vistas.- 3) Corte AA'-



VISTA SUPERIOR Esc.: 1:1



VISTA SUPERIOR



PERSP. ISOMÉTRICA DESPIECE

NOMBRE:

Cº

T.P.Nº: 4

IN: / / 20

TER: / / 20

Vº

Prof. - Arq. GUIASOLA, Germán